

TESTS I MAKROØKONOMI

Formål og indhold

Testene er tænkt som et hjælpemiddel til studerende, der bruger bogen 'Makroøkonomi - teori og beskrivelse' fra forlaget Limesdesign.

Sigtet er at støtte de studerende i tilegnelsen af basale makroøkonomiske metoder samt at checke viden og forståelse af væsentlige begreber og definitioner.

Indhold

Testene består af 20 opgaver, der hentes i tilfældig rækkefølge fra en base på 30-40 spørgsmål. Spørgsmålene er forsøgt gjort relevante, bredt dækkende i det pågældende kapitel og af varierende sværhedsgrad, samtidig med at der veksles mellem forskellige spørgsmålstyper. Umiddelbart efter hvert spørgsmål gives tilbagemelding. Ved forkert svar gives en kort forklaring og en sidehenvisning. Til sidst opsummeres der med en optælling af rigtige og forkerte svar.

Der er i alt 9 tests. De fleste dækker et enkelt kapitel, men tre tests dækker to kapitler: kapitel 1 og 2, kapitel 5 og 6 henholdsvis kapitel 9 og 10.

Anvendelse

Den tilfældige rækkefølge og basen med ikke-benyttede spørgsmål gør, at den studerende kan gentage testen med en blanding af nye spørgsmål og allerede besvarede spørgsmål i ændret rækkefølge.

Opgavernes karakter (multiple choice, rigtigt/forkert spørgsmål, simple beregningsopgaver o.l. med entydige svar) og det elektroniske miljø gør, at der ikke testes på den del af de faglige læremål, der består af kompetencer i analyse og vurdering af mere sammensatte faglige problemstillinger.

Testene skal derfor ses som et supplement til øvrige undervisningsmaterialer, men vil ikke være egnede til at afdække om samtlige faglige krav til viden, færdigheder og kompetencer i de relevante studieordninger og uddannelsesbekendtgørelser, er opnået.

Brugervejledning

Hver test åbner med en forside, der markerer hvilket kapitel testen knytter sig til:

#



MAKROØKONOMI
Teori og beskrivelse

Kapiteltest
Klik på knappen for at starte

8 Konjunkturpolitik

#

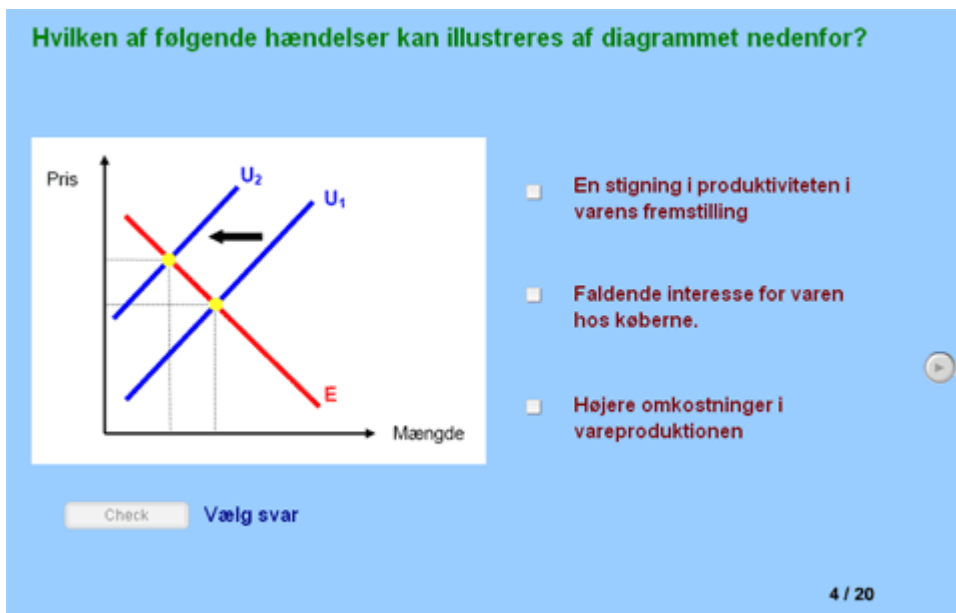
#

Testen startes ved at klikke med musen på knappen til højre:



Denne knap benyttes generelt i testen til at fortsætte til næste opgave, når besvarelsen af en opgave er gennemført. De fire grundlæggende opgavetyper, der anvendes er

1. Traditionel multiple-choice opgave.



Hvilken af følgende hændelser kan illustreres af diagrammet nedenfor?

Pris

Mængde

En stigning i produktiviteten i varens fremstilling

Faldende interesse for varen hos køberne.

Højere omkostninger i vareproduktionen

Check Vælg svar

4 / 20

Multiple-choice-opgaverne besvares ved at afmærke en af markeringsboksene. Der er kun ét korrekt svar pr. opgave, så der skal kun markeres ét felt.

2. Rigtigt-forkert spørgsmål

Her skal der tages stilling til, om den anførte påstand er rigtig eller forkert. En af knapperne 'Rigtigt' eller 'Forkert' knap afmærkes.

#

Hvis både udbud og efterspørgsel falder på et frit marked, vil prisen med sikkerhed falde.

- Rigtigt
- Forkert

Check Klik på Rigtigt eller Forkert

16 / 20

#

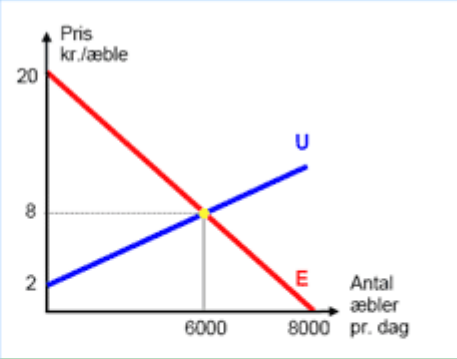
#

3. Opgave med beregningssvar.

Her skal der foretages en lille beregningsopgave, hvor resultatet skrives i tekstboksen nedenfor til venstre.

#

Beregn producentoverskuddet (i kr. uden decimaler) på markedet for æbler, når der handles til ligevægtsprisen.



Skriv dit svar her:

Check Udfyld svarfeltet

4 / 20

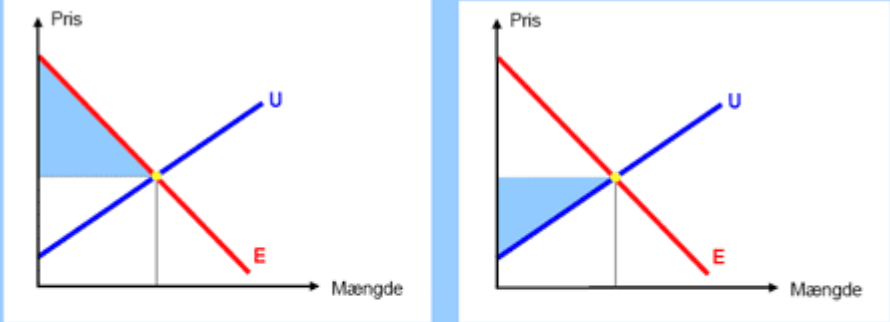
#

#

Det er vigtigt at være omhyggelig med at følge instruksen om enheder og decimaler nøje. I eksemplet ovenfor skal resultatet således angives som et helt tal uden enhed.

4. Multiple-choice opgave med hotspot.

I denne opgave type foregår valget af svar ved at klikke på den figur, der passer til instruktionen. I testen findes også hotspot-opgaver, hvor der skal vælges et felt i en tabel. Også i hotspot-opgaverne er der kun ét korrekt svar.



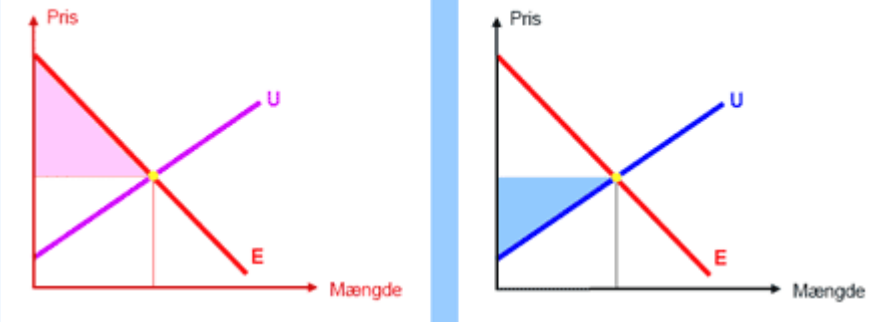
I hvilken af ovenstående figurer viser det blåfarvede område producentoverskuddet i markedsligevægten på et frit marked?

Check **Vælg en af figurerne ved at klikke på den**

Fortryd valg

11 / 20

Når den ønskede figur er valgt, markeres valget ved at figuren "lyser" med en klar rød farve. Samtidig aktiveres check-knappen:



I hvilken af ovenstående figurer viser det blåfarvede område producentoverskuddet i markedsligevægten på et frit marked?

Check **Klik på check-knappen**

Fortryd valg

9 / 20

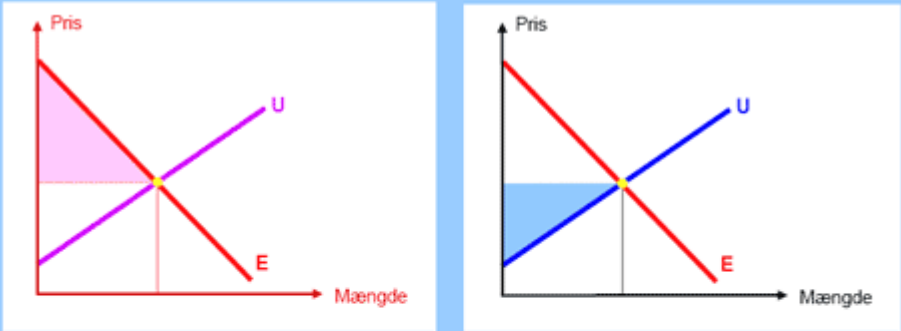
Kontrol af opgaveløsning

Når den foretrukne svarmulighed er valgt, eller når regneresultatet er skrevet i tekstboksen, kontrolleres resultatet ved at klikke på check-knappen nederst til venstre.

Check

Klik på check-knappen

Der gives nu tilbagemelding om korrekt eller forkert svar. Ved forkert svar gives en kort forklaring eller antydning af, hvordan opgaven skal løses. Samtidig er der en sidehenvisning til relevante sider i bogen 'Makroøkonomi - teori og beskrivelse':



I hvilken af ovenstående figurer viser det blåfarvede område producentoverskuddet i markedsligevægten på et frit marked?

Fortryd valg

Check Forkert svar! Et producentoverskud er arealet mellem prislínen og udbudskurven (GROMK). Se side 48-49

9 / 20

Næste opgave kan nu aktiveres ved at klikke med musen på knappen til højre:



Læg mærke til tælleren nederst i højre hjørne:

9 / 20

Her ses, at det aktuelle spørgsmål er nummer 9 ud af 20 spørgsmål.

Når alle 20 opgaver er besvaret, opsummeres testresultatet med oplysning om antal korrekte svar og procentandelen af korrekte svar:

Testresultat

Antal korrekte svar: 18

Antal forkerte svar: 2

Andel korrekte: 90%